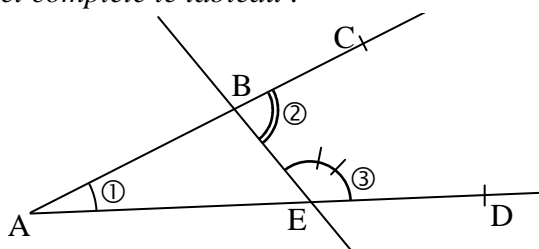


Exercice 1 :

9 points

Observe les angles codés sur la figure ci-dessous et complète le tableau :

n°	notation	sommet	côtés
①			
②			
③			

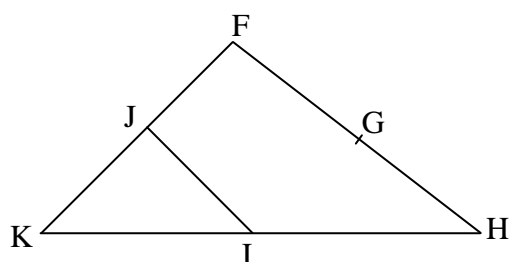


Exercice 2 :

12 points

1°) Code et numérote sur la figure ci-dessous les angles proposés dans le tableau qui suit.

2°) Complète le tableau avec la nature et la mesure en degrés de chaque angle.



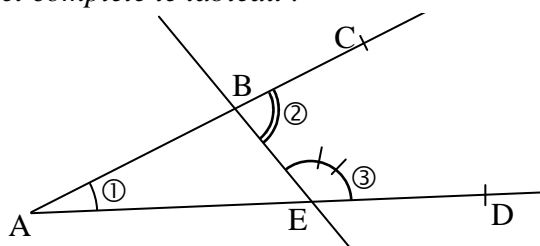
n°	notation	nature	mesure
①	\widehat{KJI}		
②	\widehat{HIJ}		
③	\widehat{FGH}		
④	\widehat{FHK}		

Exercice 1 :

9 points

Observe les angles codés sur la figure ci-dessous et complète le tableau :

n°	notation	sommet	côtés
①			
②			
③			

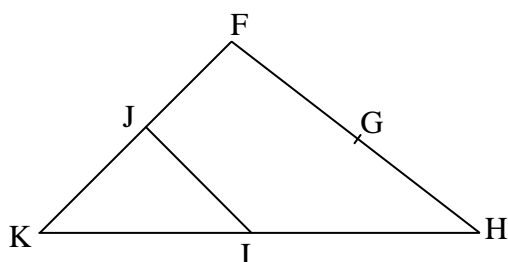


Exercice 2 :

12 points

1°) Code et numérote sur la figure ci-dessous les angles proposés dans le tableau qui suit.

2°) Complète le tableau avec la nature et la mesure en degrés de chaque angle.



n°	notation	nature	mesure
①	\widehat{KJI}		
②	\widehat{HIJ}		
③	\widehat{FGH}		
④	\widehat{FHK}		